



Nom: _____

RÉVISION

à la

Maison

3^e cycle



© LA CLASSE DE KARINE



JOUR #1

NOMBRE DU JOUR

147 563,098

Décompose le nombre de 2
façons différentes.

Two large dashed rectangular boxes for writing answers.

Combien y a-t-il de dizaines en tout?	
Quelle est la valeur du 4 ?	
Quel chiffre est à la position des millièmes?	
Combien y a-t-il de centièmes en tout?	
Quelle est la valeur des nombres soulignés?	

JOUR #2

PHRASE DU JOUR

Dans le salon, Mikko mange tranquillement sa brosse à dents.

CONSIGNES:

1. Encadre le sujet. Pronominalise-le.
2. Souligne le complément de phrase.
3. Encercle le prédicat. Identifie le verbe conjugué.
4. Encercle les prépositions en bleu.
5. Encercle l'adverbe en rouge.

JOUR #3

FRACTION DU JOUR


$$\frac{40}{50}$$

Réduis la fraction à sa plus simple expression.

Transforme la fraction en pourcentage et en nombre décimal.

Effectue l'opération suivante.

$$\frac{40}{50} + \frac{2}{10} =$$




JOUR #4

DIVISIONS DU JOUR

$$288 \overline{) 5}$$

$$469,8 \overline{) 6}$$



JOUR #5

CONVERSIONS DU JOUR

KM			M	DM	CM	MM

Transforme les mesures suivantes. Tu peux utiliser le tableau métrique pour t'aider.

36 dm en m	
14 dm en mm	
8 cm en m	
17 m en km	
134 dm en km	
2 km en dm	